

 Informação/Curiosidade


 Observação

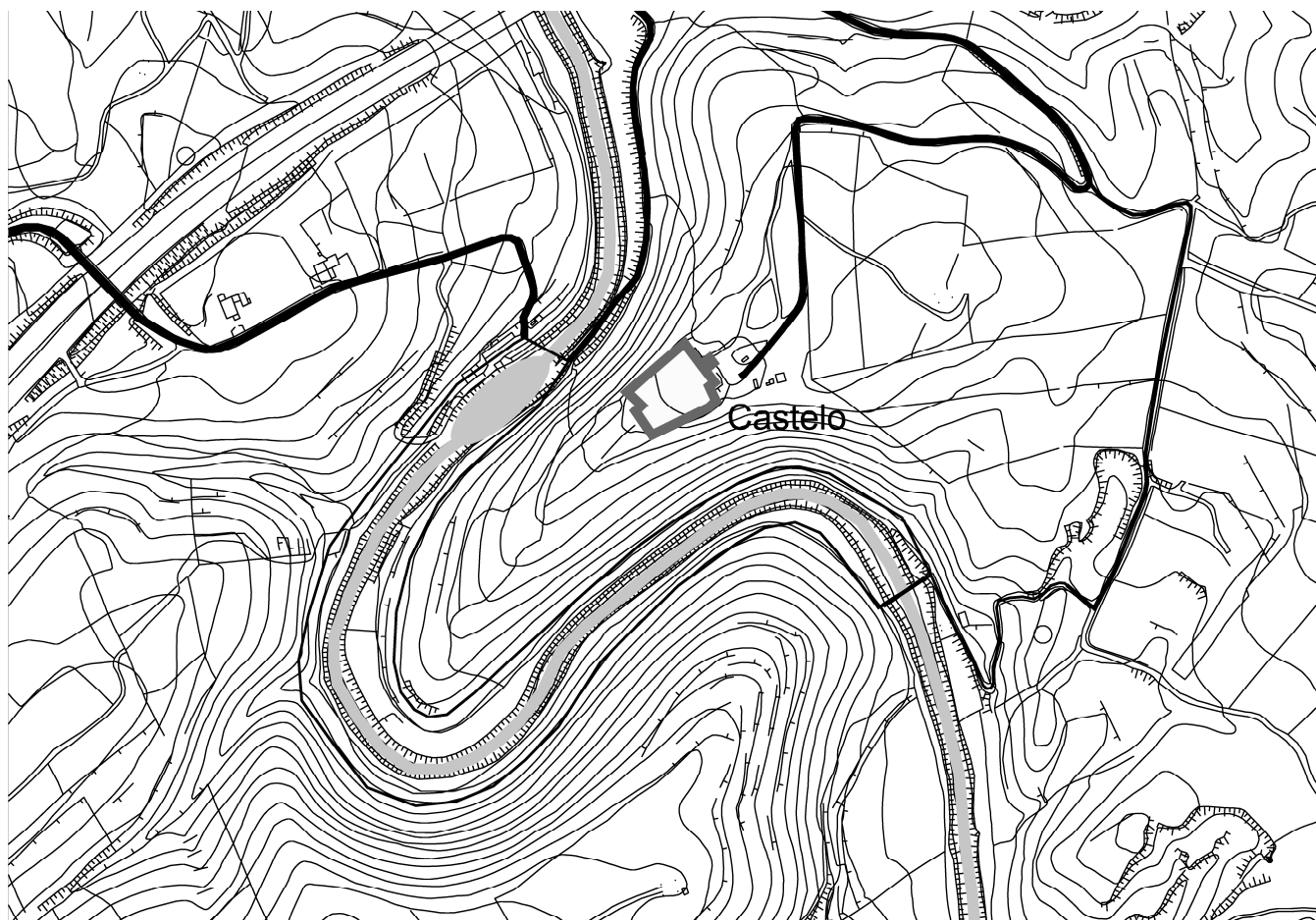
 Mapa

 Glossário

 Desenhar/fotografia

 On line / Partilha

 Caminhada/ passeio



Planta de implantação do castelo de Paderne



Coloque-se num local suficientemente afastado para conseguir ter mais ou menos esta perspetiva do castelo:



Assinale na foto o seguinte elemento arquitetónico:

Torre Albarrã - do árabe *al- barrã*, que significa « de fora, no exterior»

**i** A torre **📄** albarrã foi uma das inovações arquitetónicas difundidas na Península Ibérica pelos **📄** Almóadas.

Diz-nos a *Crónica da Conquista do Algarve*: que após a tomada de Salir «*foi cercar Paderna, que he hum castello forte e mui bom...*», *hîsn* localizado no barrocal, em um monte que domina uma vasta e fértil planície, entre Albufeira e a serra.



Após este percurso entre Salir e Paderne, qual o impacto que tem esta fortificação ? Escolha uma das opções:


- a) Frágil e fácil de conquistar;
- b) Forte e resistente




Enquanto cavaleiro cristão, que tem por missão tomar este castelo aos mouros, qual será a melhor estratégia/ tática de guerra para o fazer?

- a) Fossado—operações , essencialmente de saque e destruição de colheitas;
- b) Cerco - o controlo militar passava então pelo domínio dos pontos fortificados – “guerra de cerco”;
- c) Ataque surpresa - ataques efetuados pela calada da noite.

 Um das táticas de guerra dos cavaleiros de Santiago no Algarve foi a tomada de pequenas fortalezas, como o  hîsn de Paderne, de onde saíam a guerrear e a saquear, criando um clima de insegurança. Esta terá sido a única forma de conquistar definitivamente a região, uma vez que eram poucos.

 **A tomada do castelo de Paderne** não foi fácil. Após a conquista de Silves os cavaleiros de Santiago dirigiram-se a Paderne, confiantes que um cerco teria mais sucesso que o assalto surpresa, anteriormente tentado, sem sucesso. No entanto durante o cerco D. Paio Peres Correia vislumbrou numa oportunidade de conquistar Silves (história da conquista de Silves).


Dias depois, após a tomada de Silves, a Ordem de Santiago ataca pela **terceira vez** Paderne, conseguindo, finalmente tomar de assalto a tenaz fortaleza. Segundo o cronista, Paio Peres Correia mostrou-se menos generoso em Paderne, do que em Silves, e fez passar a fio da espada os defensores deste hîsn, como represália pela morte de dois freires de Santiago em Silves...

 Hoje sabemos que o Castelo de Paderne é uma construção em taipa militar, no entanto, para fazer crer aos inimigos que este era um castelo “mui forte”, os muçulmanos pintaram bandas brancas de cal a imitar grandes pedras.




Aproximando-se agora do monumento, especialmente da torre albarrã, consegue ver ainda os restos dessas bandas brancas ? Encontrou?




Então agora escolha um bom exemplo, fotografe e  partilhe no mural do seu facebook e envie uma mensagem para o facebook do museu que nós partilhamos!

Qual o formato da torre?




Assinale a opção correta:





Como é que a torre liga ao resto da muralha?

- a) Não liga, não há qualquer ligação entre a torre e a muralha;
- b) Através de uma espécie de ponte que tem um nome específico:  adarve;
- c) Através de uma corda.

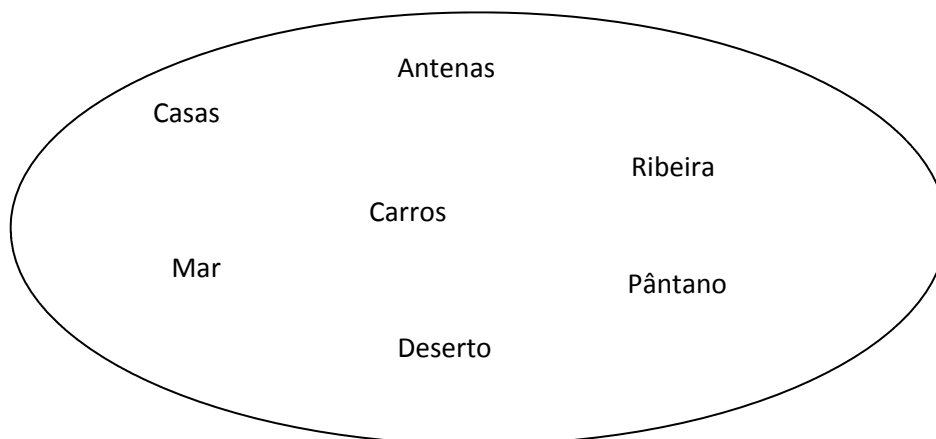


Siga pelo lado direito do castelo (quem está de frente para este), vamos dar uma volta ao monumento (se não conseguir dar uma volta completa devido à vegetação ou dificuldade do terreno volte para trás e recomece pelo lado oposto).




Observe e fotografe o que resta da muralha, e a paisagem envolvente.

Qual o recurso natural que se destaca nesta paisagem? Assinalar a opção correta.



A Ribeira de Quarteira nasce na confluência da ribeira de Alte com a ribeira de Algibre, cerca de 1 km a montante de Paderne.



Identifique na paisagem elementos patrimoniais associados à água. Fotografe e  partilhe, ou simplesmente tome nota:

---

---

---



Oiça a paisagem, se estiver calor procure uma sombra. Feche os olhos por alguns momentos. Que sons consegue distinguir?

---

---

---



Das seguintes espécies, quais a que se encontram na envolvente?



Alfarrobeira

---



Bananeira

---



Oliveira

---



Figueira

---



Castanheiro

---

Sabia que a alfarrobeira - *Ceratonia siliqua* — foi uma espécie introduzida na Península Ibérica e Norte de África pelos muçulmanos?!

**i** Por falar em muçulmanos, são várias as designações que usamos para nos referirmos ao povo que ocupou o território que hoje é Portugal desde o ano de 711 até 1249. Localiza-as na sopa de letras:

**INFIÉIS; SARRACENOS; ÁRABES; MOUROS**

S	Q	A	Z	S	E	U	U	P	Ç	N	A
A	C	A	L	G	A	R	V	E	N	L	D
R	A	M	O	U	R	O	S	P	Z	A	O
R	I	D	E	A	T	E	A	L	J	R	N
A	L	I	A	G	B	O	U	R	Ç	A	O
C	P	V	F	A	A	G	U	M	O	N	R
E	Q	J	R	D	T	R	L	E	A	J	A
N	R	Á	H	E	S	O	Ç	X	S	E	H
O	R	Ç	O	S	I	É	I	F	N	I	C
S	M	H	G	A	N	T	L	S	L	R	Ç
B	A	M	E	N	D	O	E	I	R	A	I
D	E	T	N	I	A	T	I	A	K	T	I



Estamos quase a terminar a conquista do Castelo de Paderne. Ao longo do passeio em torno deste monumento, observou os vestígios da muralha. Consegue distinguir as intervenções de restauro efetuadas? Faça a correspondência.

Original ●



Restauro ●



Agora que deu a volta completa a este *hîsn*, responda, quantas portas tem?




E qual a sua posição em relação ao castelo? A sua entrada é em:

(Escolha a opção correta)

S



Dirija-se à porta de entrada. Castelo dominado! Parabéns!

Vai certamente querer recordar este momento! Tire uma  fotografia e  partilhe!

### Glossário

**Adarve** – Ponte que liga a muralha à torre albarrã.

**Albarrã (Torre)** – Torre destacada do alinhamento das restantes e ligada à muralha por uma pequena ponte que facilmente podia ser destruída, isolando-a de forma a que a proteção da fortaleza não fosse comprometida. Trata-se de um elemento exclusivo das fortificações hispano-árabes.

**Almorávidas e almóadas** - Movimentos fundamentalistas religiosos que se desenvolveram entre as tribos do Norte de África.

**Hîsn** – pequena fortificação rural.

**Islamismo** - A religião dos Muçulmanos (=crentes). Islão, do árabe *islam* (resignação à vontade de Deus).

**Muçulmanos** - Em árabe significa crentes, identificando todos aqueles que aderiram à nova fé islâmica.

**Reconquista Cristã** - Processo de recuperação dos territórios ocupados pelos muçulmanos. Iniciou-se em 718 com Pelágio e só terminou no século XV com a expulsão dos muçulmanos de Granada pelos Reis Católicos.